

ORIENTIERUNGSLAUF

Verhexter Koffer

Toc, toc, toc! Haallo! Ist da jemand?

Ich bin in diesem Koffer gefangen. Eine böse Hexe hat mich hier eingesperrt, weil ich ihr das Geheimnis für sauberes Wasser nicht verraten wollte.

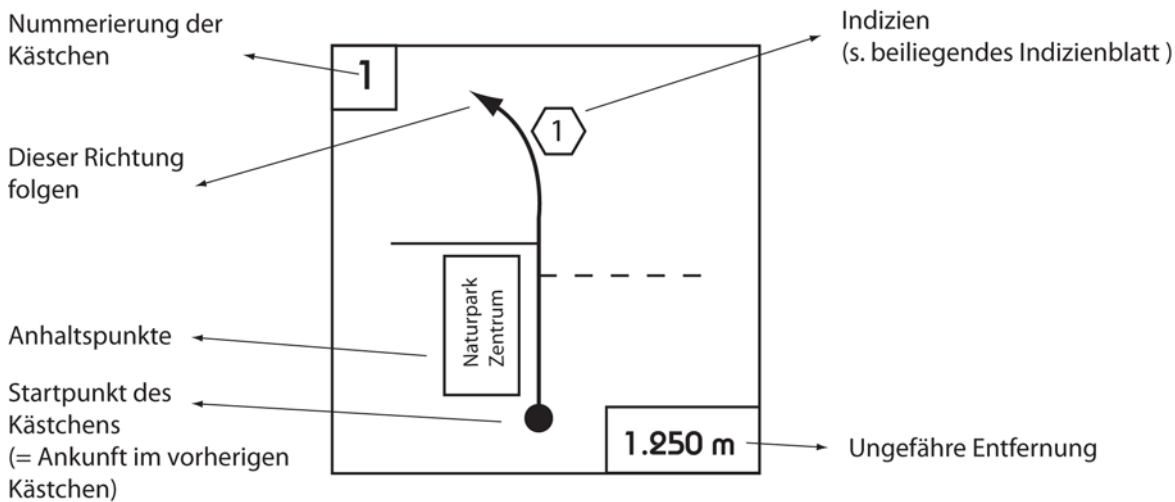
Den Koffer hat die Hexe mit einem doppelten Schloss versiegelt und die Ziffern der Zahlenkombination in alle Winde verstreut. Ihr müsst mir helfen.

Eine Wasserfee hat mir verraten, dass die Hinweise für die Zahlenkombination in der Umgebung versteckt sind. Folgt einfach meiner Wegbeschreibung und seid wachsam für etwaige Hinweise.

Wenn ihr mich befreit bekommt ihr eine Belohnung und ich verrate Euch das Geheimnis für sauberes Wasser.

Ich kann Euch diese **Laufkarte als Orientierungshilfe** überlassen! Um die Kombination für den Koffer zu entzaubern, müsst Ihr **alle Indizien** auf dem Weg aufmerksam beobachten und notieren, denn sie sind der Schlüssel. Der **Startpunkt** ist der Parkplatz an der großen Brücke bei Lultzhausen an der Straße zwischen Insenborn und Lultzhausen

Achtung: Die Laufkarte wird immer von unten nach oben gelesen (achtet dabei auf die Nummerierung der Kästchen).



Benutzt bei Ankunft die nummerierten Indizienkästchen auf dem Indizienblatt, um die 2 Codes zusammen zu stellen! Schloss 1 = Indiz 1 - 4! Schloss 2 = Indiz 5 - 8!

Schloss 1

Schloss 2

www.crhs.eu

Indizienblatt

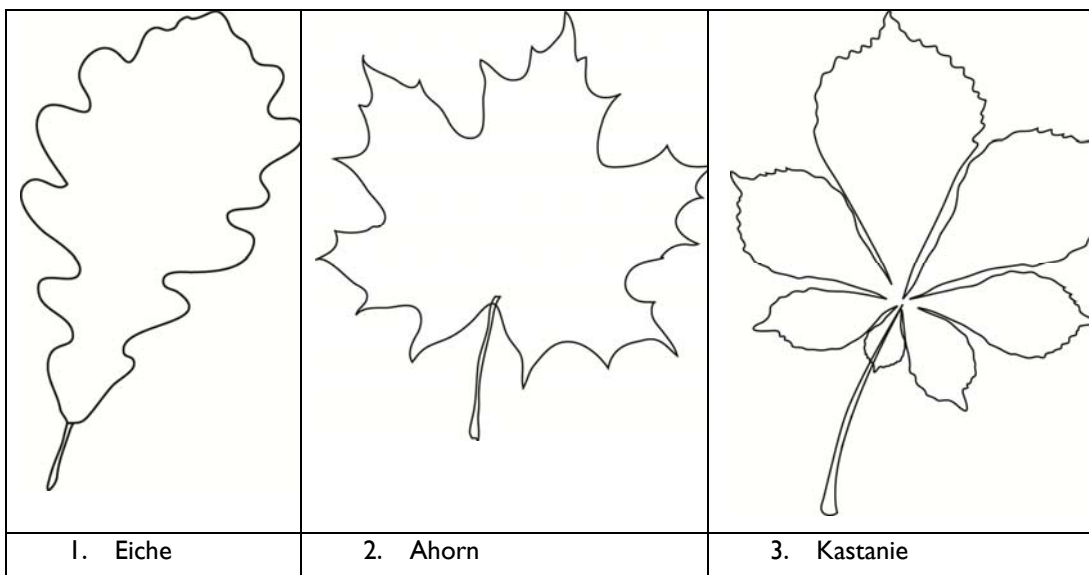
INDIZ 1

Wie weit ist es bis nach Liefrange ? Tipp: Hier ist Beobachtungssinn gefragt!

 Km

INDIZ 2

Welche ist die häufigste Baumart hier im Wald? Sammle Blätter in deiner Umgebung und vergleiche sie mit den hier angegebenen Blattumrissen! Schreibe die Nummer der häufigsten Baumart in das Kästchen!



INDIZ 3

Genieße die schöne Aussicht auf die Staumauer von Bavage! Wie viele Durchlässe hat die Staumauer?

Contrat de Rivière Haute-Sûre

Projet PACTE Haute-Sûre 003-WLL-2-3-001

Programme Interreg IV A «Grande Région»

INDIZ 4


Der Weg führt dich entlang einer Baumallee bis nach Liefrange? Zähle die Bäume ab dem Feldweg der dich bis hierher geführt hat. Tipp: Nur die markierten Bäume zählen!

INDIZ 5

Am linken Straßenrand kannst du ein altes Waschbecken entdecken. Heute hat jeder eine Waschmaschine im Haushalt! Wann wurde das Waschbecken eingeweiht?

INDIZ 6

Wasser existiert auf der Erde in unterschiedlichen Formen. Je nach Temperatur können sich diese verändern. Finde die unterschiedlichen Formen des Wassers und Du erhältst deinen sechsten Hinweis.



1. e r

2. a p

3.

Die Position der gesuchten Buchstaben im Alphabet ergibt die benötigte Zahl!

Schreibe diese in die Kästchen und errechne die Quersumme!

+ + =

Contrat de Rivière Haute-Sûre

Projet PACTE Haute-Sûre 003-WLL-2-3-001

Programme Interreg IV A «Grande Région»

INDIZ 7


Wie tief ist der Stausee an seiner tiefsten Stelle?

Die Antwort wurde leider von der Hexe verzaubert und ist unleserlich. Aber vielleicht findet Ihr eine Lösung, den Text lesbar zu machen.

*Red Eesuats edruw rov tug 05 Nerhaj tuabeg dnu driw medties sla Rehciepsressawknirt tztuneg.
 Red Eesuats tsi red etssörg ehciltsnük Ees ni Grubmexul. Re tssaf 000.000.06 Retemkibuk Ressaw
 dnu tsi lamixam gizreivdnunebeis Retem feit.*

INDIZ 8

Wo kommt unser Trinkwasser her? Durch die Hexerei ist die Reihenfolge des Trinkwasserzyklus durcheinander geraten. Kannst Du diesen wieder richtig zusammensetzen?



Neue Reihenfolge: